

Nazwa kwalifikacji: **Przygotowywanie oraz wykonywanie prac graficznych i publikacji cyfrowych**
Symbol kwalifikacji: **AU.54**
Numer zadania: **01**
Wersja arkusza: **SG**

Wypełnia zdający

Numer PESEL zdającego*

--	--	--	--	--	--	--	--	--	--	--	--	--	--	--	--	--	--	--	--

Miejsce na naklejkę z numerem
PESEL i z kodem ośrodka

Czas trwania egzaminu: **180** minut.

AU.54-01-24.06-SG

EGZAMIN POTWIERDZAJĄCY KWALIFIKACJE W ZAWODZIE

Rok 2024

CZĘŚĆ PRAKTYCZNA

**PODSTAWA PROGRAMOWA
2017**

Instrukcja dla zdającego

1. Na pierwszej stronie arkusza egzaminacyjnego wpisz w oznaczonym miejscu swój numer PESEL i naklej naklejkę z numerem PESEL i z kodem ośrodka.
2. Na KARCIE OCENY w oznaczonym miejscu przyklej naklejkę z numerem PESEL oraz wpisz:
 - swój numer PESEL*,
 - oznaczenie kwalifikacji,
 - numer zadania,
 - numer stanowiska.
3. Sprawdź, czy arkusz egzaminacyjny zawiera 6 stron i nie zawiera błędów. Ewentualny brak stron lub inne usterki zgłoś przez podniesienie ręki przewodniczącemu zespołu nadzorującego.
4. Zapoznaj się z treścią zadania oraz stanowiskiem egzaminacyjnym. Masz na to 10 minut. Czas ten nie jest wliczany do czasu trwania egzaminu.
5. Czas rozpoczęcia i zakończenia pracy zapisze w widocznym miejscu przewodniczący zespołu nadzorującego.
6. Wykonaj samodzielnie zadanie egzaminacyjne. Przestrzegaj zasad bezpieczeństwa i organizacji pracy.
7. Po zakończeniu wykonania zadania pozostaw arkusz egzaminacyjny z rezultatami oraz KARTĘ OCENY na swoim stanowisku lub w miejscu wskazanym przez przewodniczącego zespołu nadzorującego.
8. Po uzyskaniu zgody zespołu nadzorującego możesz opuścić salę/miejsce przeprowadzania egzaminu.

Powodzenia!

* w przypadku braku numeru PESEL – seria i numer paszportu lub innego dokumentu potwierdzającego tożsamość

Zadanie egzaminacyjne

Wykonaj projekt dwóch jednostronnych etykiet do drukowania fleksograficznego zgodnie z załączonymi szkicami *etykieta1 szkic* i *etykieta2 szkic*.

Narysuj wektorowe logo na podstawie szkicu *logo szkic* (zgodne co do wymiarów, kolorystyki, kształtów, ilości elementów oraz proporcji).

Wykorzystaj kształty grafik z bitmap *liść1.jpg* i *liść2.jpg*. Zapisz je jako obiekty wektorowe zgodnie ze szkicami o tych samych nazwach.

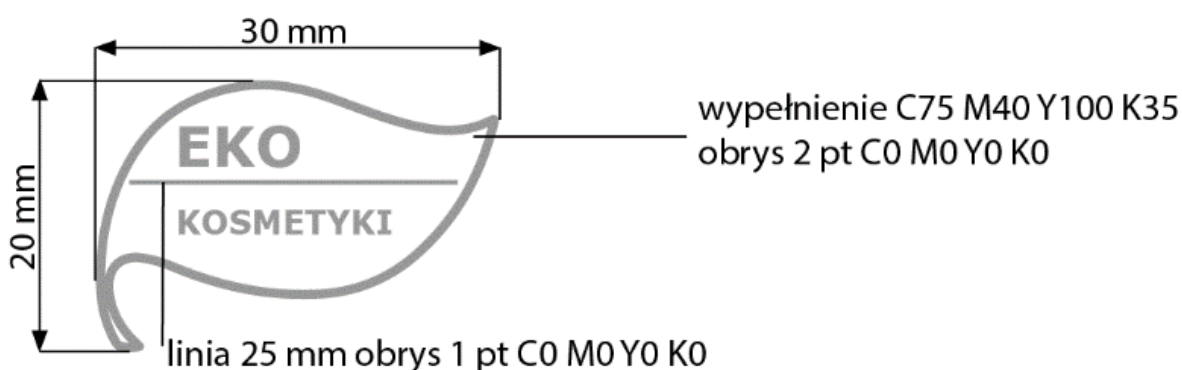
Wykorzystaj do projektów etykiet plik tekstowy *teksty.docx* oraz bitmapy *kod_qr.jpg*, *aksamitka.jpg*, *chaber.jpg*, *deska.jpg*, *liść1.jpg* i *liść2.jpg* umieszczone na pulpicie komputera w skompresowanym folderze **AU.54-01-materiały.7z** zabezpieczonym hasłem **etykieta123**

Przygotowane obiekty graficzne wektorowe i bitmapy o parametrach zgodnych ze szkicami zapisz w utworzonym na pulpicie komputera folderze *etykiety_PESEL* (*PESEL* to Twój PESEL) pozostawiając te same nazwy plików źródłowych.

Wykonaj pliki PDF obu etykiet w standardzie drukarskim nie posiadające żadnych znaczników drukarskich. W folderze *etykiety_PESEL* (*PESEL* to Twój PESEL) na pulpicie komputera zamieść: wersję otwartą i zamkniętą projektów zapisaną pod nazwą *etykieta1*, *etykieta2*.

Projekty otwarte etykiet zapisz z możliwością otwierania w najniższej wersji programu.

logo szkic

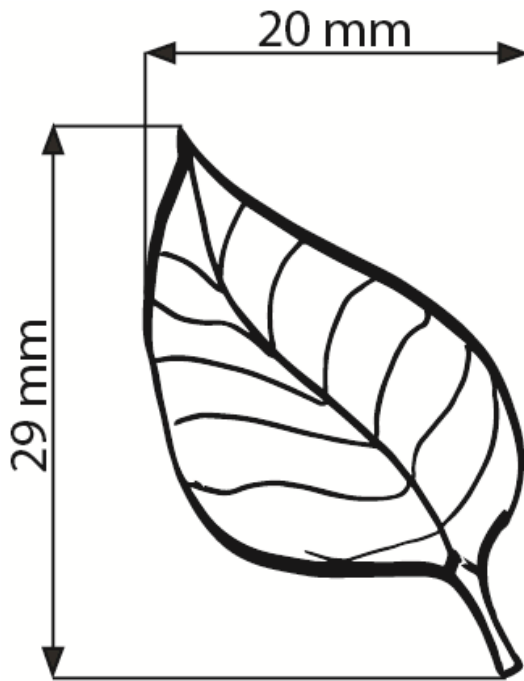


Teksty:

EKO - Verdana Bold 12 pt C0 M0 Y0 K0 odległość tekstu od linii 1 mm

KOSMETYKI - Verdana Bold 7 pt C0 M0 Y0 K0 odległość tekstu od linii 2 mm

liść1 szkic

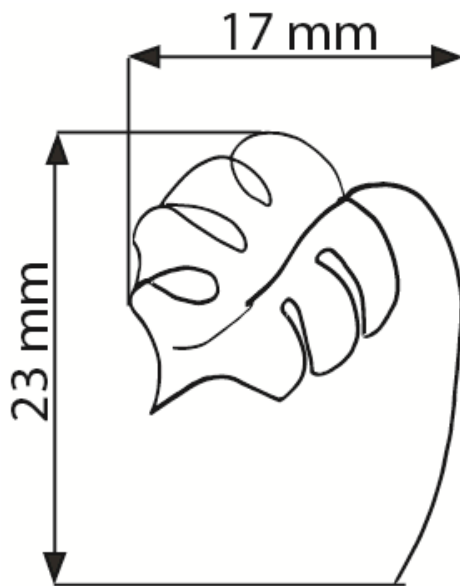


brak tła

wypełnienie liścia
C0 M0 Y0 K0

wszystkie linie kształtu
C0 M0 Y0 K100

liść2 szkic

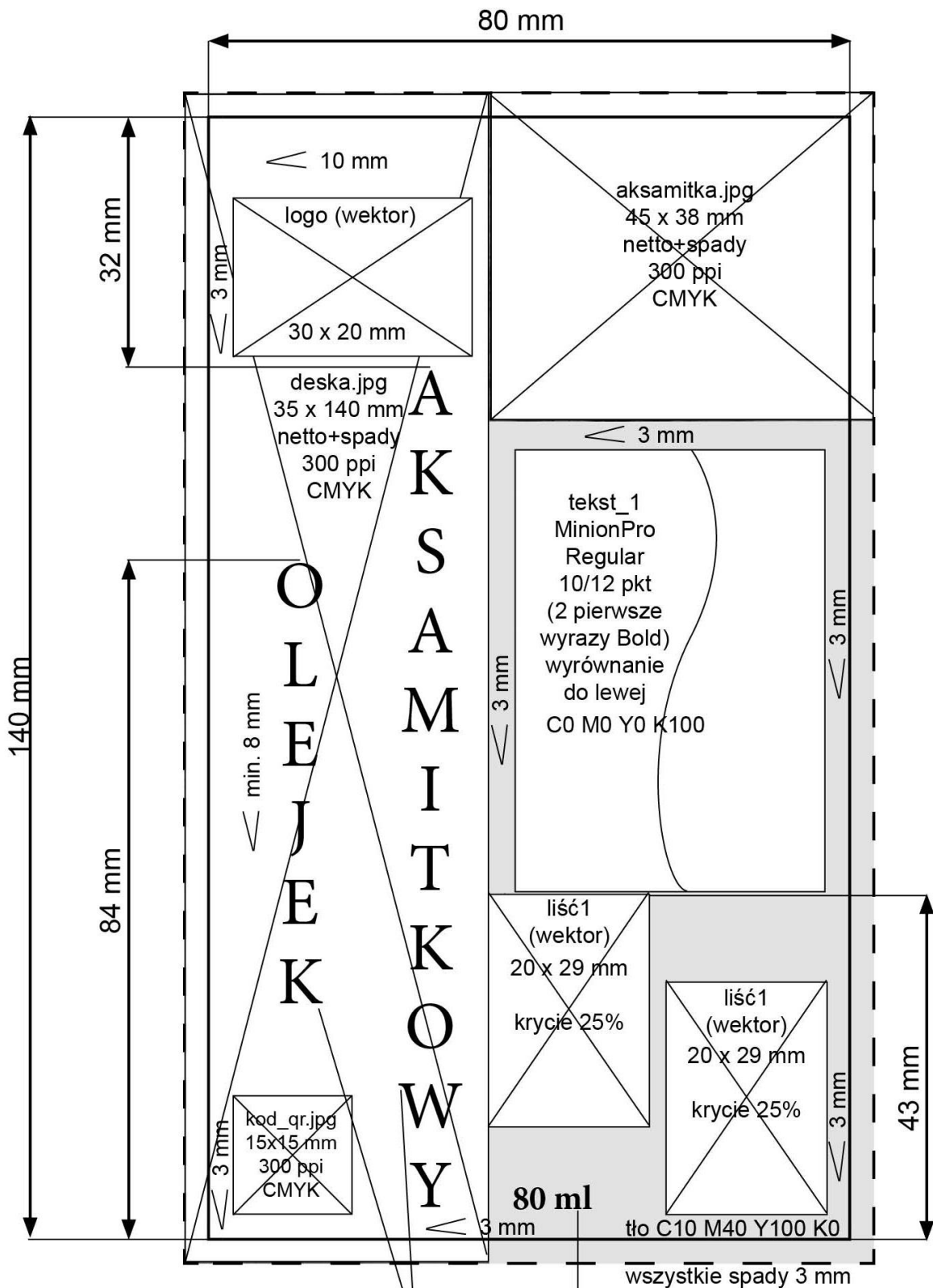


brak tła

wypełnienie liścia
C0 M0 Y0 K0

wszystkie linie kształtu
C0 M0 Y0 K100

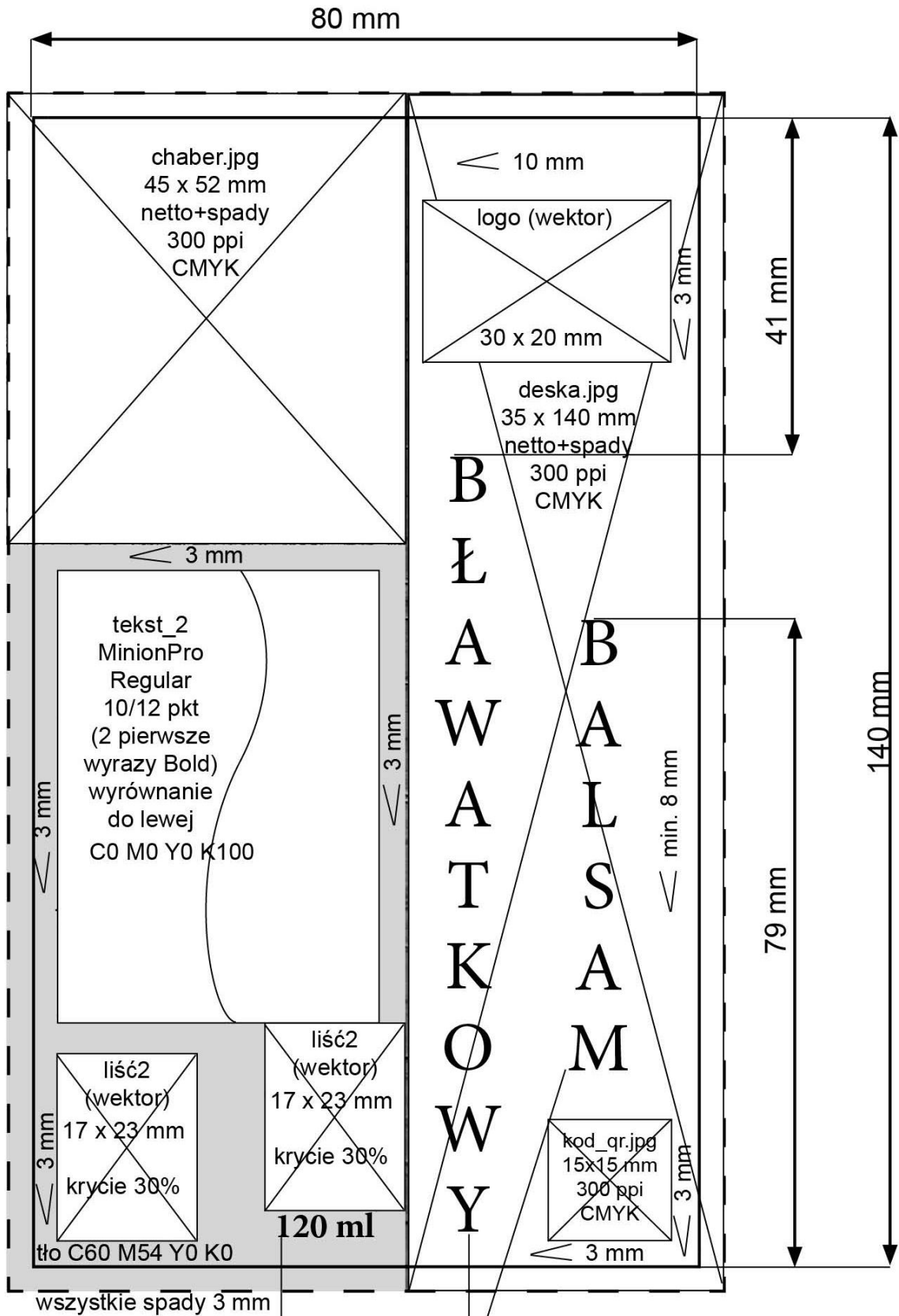
etykieta1 szkic



MinionPro Regular 24/28 pkt
wyśrodkowany
C0 M0 Y0 K0

MinionPro Bold 12 pkt
C0 M0 Y0 K100
położenie 3 mm od dolnej krawędzi

etykieta2 szkic



MinionPro Bold 12 pkt
C0 M0 Y0 K100
położenie 3 mm od dolnej krawędzi

MinionPro Regular 24/28 pkt
wyśrodkowany
C0 M0 Y0 K0

Czas przeznaczony na wykonanie zadania wynosi 180 minut.

Ocenie będą podlegać 4 rezultaty:

- obiekty wektorowe i bitmapy przygotowane do projektu etykiet,
- projekt pierwszej etykiety,
- projekt drugiej etykiety,
- pliki PDF etykiet.

