

Nazwa kwalifikacji: **Przygotowywanie oraz wykonywanie prac graficznych i publikacji cyfrowych**
Oznaczenie kwalifikacji: **AU.54**
Numer zadania: **01**
Wersja arkusza: **SG**

Wypełnia zdający

Numer PESEL zdającego*

--	--	--	--	--	--	--	--	--	--	--	--	--	--	--	--	--	--	--	--

Miejsce na naklejkę z numerem
PESEL i z kodem ośrodka

Czas trwania egzaminu: **180** minut.

AU.54-01-22.01-SG

EGZAMIN POTWIERDZAJĄCY KWALIFIKACJE W ZAWODZIE

Rok 2022

CZĘŚĆ PRAKTYCZNA

**PODSTAWA PROGRAMOWA
2017**

Instrukcja dla zdającego

1. Na pierwszej stronie arkusza egzaminacyjnego wpisz w oznaczonym miejscu swój numer PESEL i naklej naklejkę z numerem PESEL i z kodem ośrodka.
2. Na KARCIE OCENY w oznaczonym miejscu przyklej naklejkę z numerem PESEL oraz wpisz:
 - swój numer PESEL*,
 - oznaczenie kwalifikacji,
 - numer zadania,
 - numer stanowiska.
3. Sprawdź, czy arkusz egzaminacyjny zawiera 5 stron i nie zawiera błędów. Ewentualny brak stron lub inne usterki zgłoś przez podniesienie ręki przewodniczącemu zespołu nadzorującego.
4. Zapoznaj się z treścią zadania oraz stanowiskiem egzaminacyjnym. Masz na to 10 minut. Czas ten nie jest wliczany do czasu trwania egzaminu.
5. Czas rozpoczęcia i zakończenia pracy zapisze w widocznym miejscu przewodniczący zespołu nadzorującego.
6. Wykonaj samodzielnie zadanie egzaminacyjne. Przestrzegaj zasad bezpieczeństwa i organizacji pracy.
7. Po zakończeniu wykonania zadania pozostaw arkusz egzaminacyjny z rezultatami oraz KARTĘ OCENY na swoim stanowisku lub w miejscu wskazanym przez przewodniczącego zespołu nadzorującego.
8. Po uzyskaniu zgody zespołu nadzorującego możesz opuścić salę/miejsce przeprowadzania egzaminu.

Powodzenia!

* w przypadku braku numeru PESEL – seria i numer paszportu lub innego dokumentu potwierdzającego tożsamość

Zadanie egzaminacyjne

Zaprojektuj i przygotuj do druku cyfrowego dwustronną etykietę odzieżową zachowując układ kompozycyjny oraz podstawowe wymiary zgodnie ze szkicami wydawniczymi *Awers etykiety* oraz *Rwers etykiety*.

Do wykonania etykiet wykorzystaj logotyp oraz pliki: *kopernik.jpg*, *glob.png*, *kod1.gif* i *tekst.docx* umieszczone na pulpicie komputera w folderze *etykieta_materialy_01* zabezpieczonym hasłem **Stach_01**

Wektorowy logotyp wykonaj na podstawie opisu technologicznego i szkicu *LOGOTYP*. Logotyp zapisz w pliku o nazwie *PESEL_logotyp* w utworzonym na pulpicie komputera folderze *PESEL_etykieta* (*PESEL* – to Twój numer PESEL).

Bitmapy przygotuj zgodnie z opisem technologicznym i zapisz w folderze *PESEL_etykieta* zachowując nazwy plików źródłowych.

Wykonaj plik PDF zaprojektowanej dwustronnej etykiety o nazwie *etykieta* nie umieszczając żadnych dodatkowych znaczników. Wersję otwartą i zamkniętą zapisz pod nazwą *etykieta* w folderze *PESEL_etykieta*.

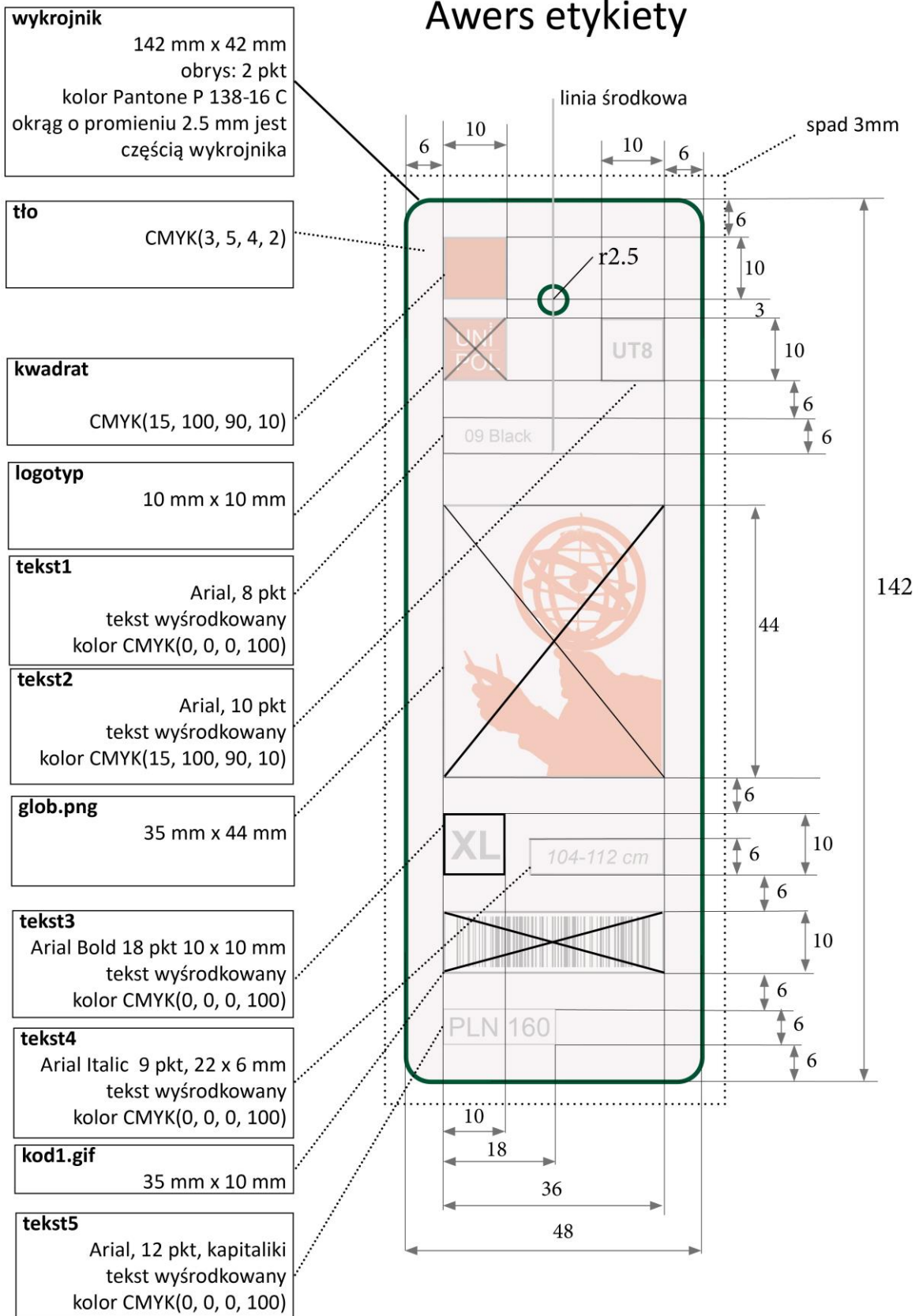
Wykonaj impozycję dwustronną na jednym arkuszu o formacie SRA3 z maksymalną ilością użytków. Umieść znaki formatowe oraz pasek kontrolny. Impozycję zapisz w folderze *PESEL_etykieta* pod nazwą *PESEL_impozycja*.

Folder o nazwie *PESEL_etykieta* zapisz na płycie CD, sprawdź poprawność nagrania płyty. Sprawdzoną płytę CD podpisz swoim numerem PESEL.

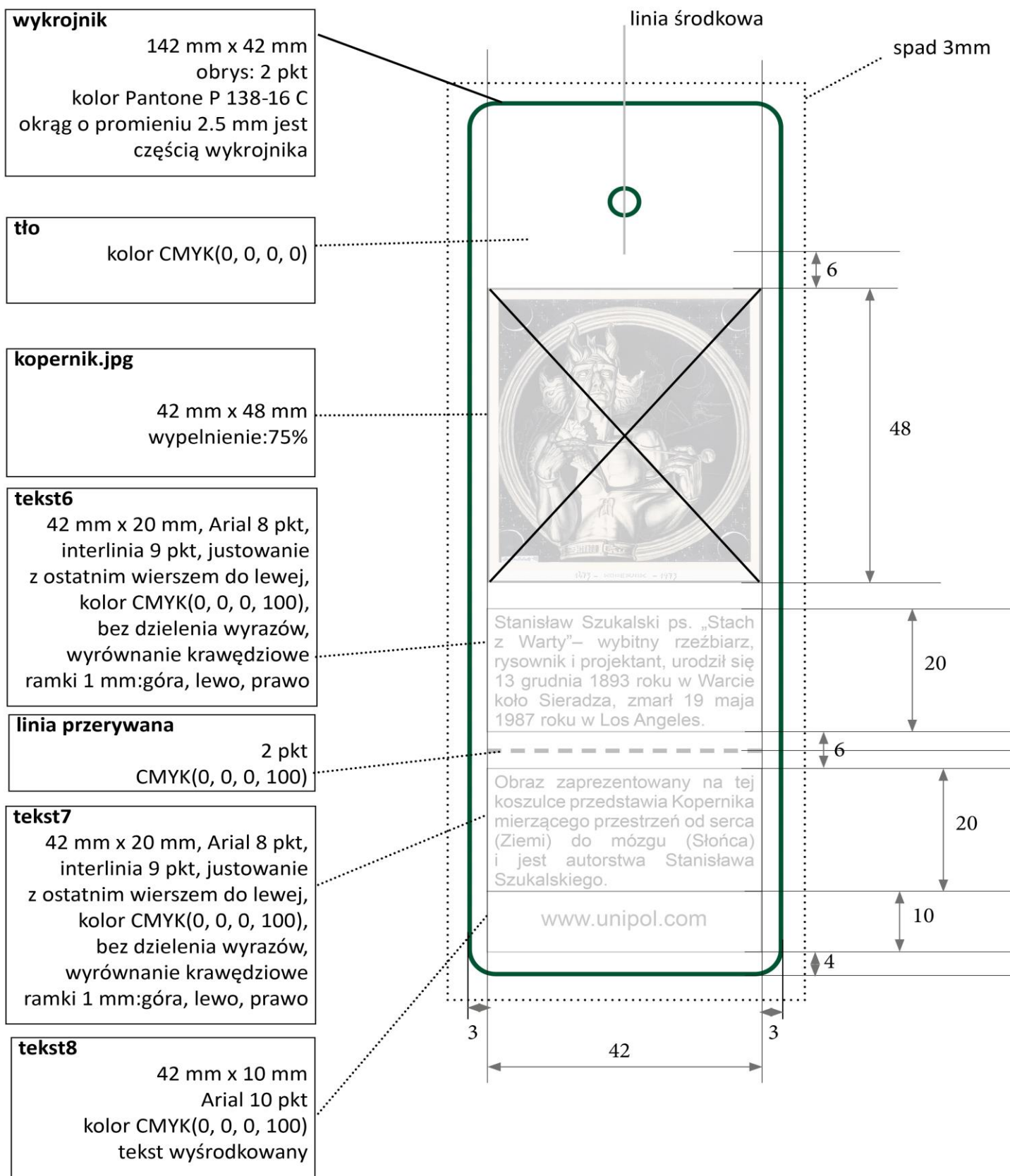
Opis technologiczny logo i bitmap

- **logotyp** – w formacie domyślnym programu, w którym projekt logo utworzono, wymiary 20 × 20 mm, w kolorach CMYK (15, 100, 90, 10) i CMYK (0, 0, 0, 0)
- **glob.png** – skalowany do wymiarów 35 × 44 mm, 300 dpi
- **kopernik.jpg** skalowany do wymiarów 42 × 48 mm, 300 dpi
- **kod1.gif** skalowany do wymiarów 35 × 10 mm, 300 dpi


Awers etykiety



Rewers etykiety



LOGOTYP



Czas przeznaczony na wykonanie zadania wynosi 180 minut.

Ocenie podlegać będą 4 rezultaty:

- logotyp wykorzystany w projekcie etykiety,
- bitmapy przygotowane zgodnie z opisem technologicznym,
- plik otwarty i zamknięty projektu etykiety,
- impozycja etykiety.

Wypełnia zdający

**Do arkusza egzaminacyjnego dołączam płytę CD opisaną numerem PESEL

--	--	--	--	--	--	--	--	--	--	--	--	--	--

, której jakość nagrania została przeze mnie sprawdzona.**

Wypełnia Przewodniczący ZN

Potwierdzam, że do arkusza egzaminacyjnego dołączona jest płyta CD, opisana numerem PESEL zdającego.

.....
Czytelny podpis Przewodniczącego ZN